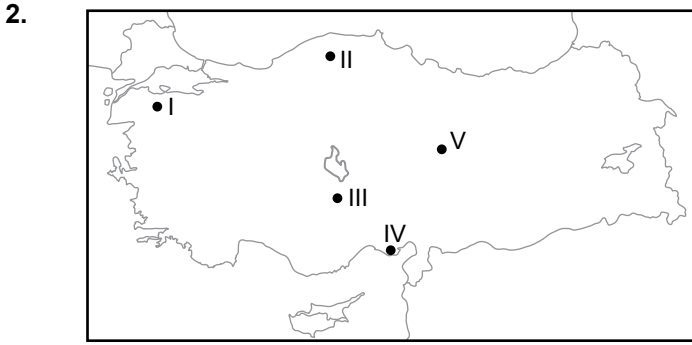


### Türkiye'de Tarım ve Hayvancılık

1. Aşağıdaki tarım ürünlerinden hangisi yetiştirme dönemi boyunca diğerlerine göre daha fazla suya ihtiyaç duymaktadır?

- A) Buğday      B) Çavdar      C) Ayçiçeği  
D) Pirinç      E) Haşhaş



Harita üzerinde numaralandırılarak verilen yerlerin hangisinde;

- Mısır,
- Pamuk,
- Soya fasulyesi
- Yer fıstığı

verilen ürünlerin hepsi yetiştirilmektedir?

- A) I      B) II      C) III      D) IV      E) V

3. Adana ve çevresi tarım ürünü çeşitliliği bakımından Kars ve çevresine göre daha zengindir.

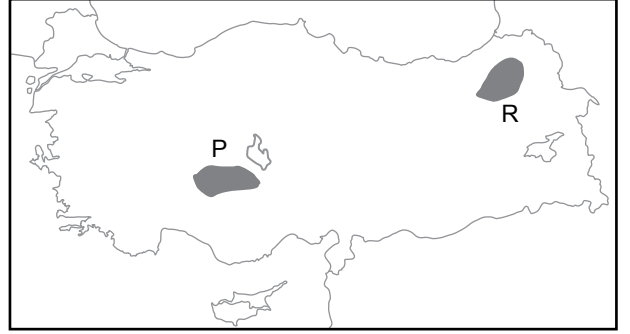
**Bu durum;**

- I. sıcaklık,
- II. yağış,
- III. tüketim

verilenlerden hangisiyle açıklanabilir?

- A) Yalnız I.      B) Yalnız II.      C) Yalnız III.  
D) I ve II.      E) I, II ve III.

4.



Harita üzerinde numaralandırılarak gösterilen P alanında küçükbaş hayvancılık faaliyetleri yaygın iken R alanında ise büyükbaş hayvancılık faaliyetleri yaygındır.

**Bu durum üzerinde;**

- I. İklim özellikleri
- II. Yer şekilleri özellikleri
- III. Bitki örtüsü özellikleri

verilenlerden hangileri etkili olmuştur?

- A) Yalnız I      B) Yalnız II      C) I ve II  
D) I ve III      E) I, II ve III

5.

Türkiye'de sulama imkanlarının gelişmesi bazı tarım ürünlerinin yetiştirme alanını genişletmiştir.

**Bu duruma örnek olarak aşağıdaki tarım ürünlerinden hangisi gösterilir?**

- A) Çay      B) Haşhaş      C) Kenevir  
D) Pamuk      E) Zeytin

6.

- I. Kümes hayvancılığı
- II. İpek böcekçiliği
- III. Besi hayvancılığı
- IV. Balıkçılık

**Yukarıda verilen hayvancılık faaliyetlerinden hangilerinin dağılımında doğal çevre koşullarının etkisi diğerlerine göre daha azdır?**

- A) I ve II.      B) I ve III.      C) II ve III.  
D) II ve IV.      E) III ve IV.

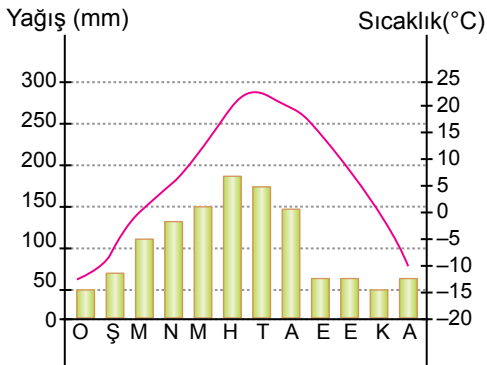
Türkiye'de Tarım ve Hayvancılık

7. • Yükseltinin fazla olması  
• Yaz yağışlarının fazla olması  
• Çayır bitki örtüsünün bulunması

Ülkemizde yukarıda verilen özelliklerin görüldüğü alanlarda aşağıdaki hayvancılık faaliyetlerinden hangisinin yaygın olması beklenir?

- A) Büyükbaş hayvancılık  
B) Küçükbaş hayvancılık  
C) Kümes hayvancılığı  
D) İpekböcekçiliği  
E) Arıcılık

8. Aşağıda ülkemizde bir yere ait yıllık sıcaklık ve yağış grafiği verilmiştir.



Grafikteki bilgiler dikkate alındığında bu yerde;

- I. turunçgil,  
II. elma,  
III. üzüm,  
IV. zeytin

verilen tarım ürünlerinden hangilerinin yetişmesi diğerlerine göre daha güçtür?

- A) I ve II  
B) I ve III  
C) II ve III  
D) I ve IV  
E) III ve IV

9. Ülkemizde doğal bitki örtüsünün çeşitlilik göstermesi arıcılık faaliyetlerini olumlu etkilemiştir.

Buna göre;

- I. Muğla ve çevresi  
II. Hakkari ve çevresi  
III. Konya ve çevresi  
IV. Edirne ve çevresi

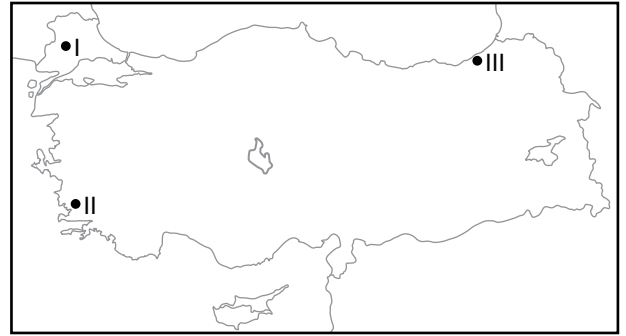
verilen yerlerin hangi ikisi arıcılık faaliyetleri için diğerlerine göre daha uygundur?

- A) I ve II.  
B) I ve III.  
C) II ve III.  
D) I ve IV.  
E) III ve IV.

10. Doğal bitki örtüsü bozkır olan bir alanda aşağıda verilen hayvan türlerinden hangisinin diğerlerine göre daha yaygın olması beklenir?

- A) Sığır  
B) Koyun  
C) Manda  
D) Kıl keçisi  
E) İpekböceği

11.



Harita üzerinde numaralandırılarak verilen alanlarda yoğun olarak yetiştirilen tarım ürünü aşağıdakilerden hangisinde doğru olarak verilmiştir?

- | I           | II     | III    |
|-------------|--------|--------|
| A) Ayçiçeği | İncir  | Çay    |
| B) Pirinç   | Fındık | Çay    |
| C) Fındık   | İncir  | Pirinç |
| D) Ayçiçeği | Fındık | Pamuk  |
| E) Pamuk    | İncir  | Fındık |

