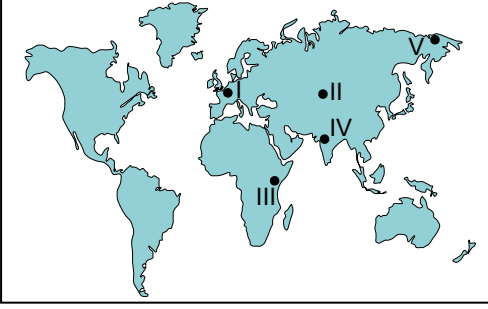


Ekonomik Faaliyetler

1. Ülkelerin ekonomik gelişmişlik seviyeleri ile ekonomik faaliyetlerin çeşitliliği arasında ilişki kurulabilir. Genellikle gelişmiş ülkelerde ekonomik faaliyetler daha çeşitlidir.

Buna göre:



haritada işaretlenerek verilen yerlerin hangisinde ekonomik faaliyetlerin daha çeşitli olması beklenir?

- A) I B) II C) III D) IV E) V

2. Aşağıdaki mesleklerden hangisi diğerlerinden farklı bir ekonomik faaliyet grubunda yer alır?

- A) Çiftçi B) Balıkçı C) Ormancı
D) Madenci E) İşletmeci

3. Geçmiş dönemlerde ekonomik faaliyetler birincil, ikincil ve üçüncül ekonomik faaliyetler şeklinde üç grupta sınıflandırılmaktaydı. Günümüzde bu gruplara dördüncül ve beşincil ekonomik faaliyetler olarak iki grup daha eklenmiştir.

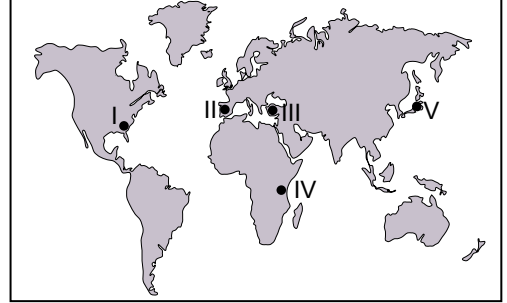
Bu değişimin yaşanmasında:

- I. ülkelerin gelişmişliğinin farklılık göstermesi,
II. teknolojik gelişmelerin hızlanması,
III. iklim değişimlerinin yaşanması

verilenlerden hangileri etkili olmuştur?

- A) Yalnız I. B) Yalnız II. C) I ve II.
D) I ve III. E) II ve III.

4. Aşağıdaki Dünya haritası üzerinde beş farklı yer işaretlenmiştir.



Bu yerlerden hangisinde birincil ekonomik faaliyetlerde çalışanların oranı daha fazladır?

- A) I B) II C) III D) IV E) V

5. Bir yerleşim yerinde çalışan nüfusun ekonomik faaliyet kollarına göre dağılımına bakılarak o yerleşim yerinin gelişmişlik düzeyi hakkında çıkarımda bulunulabilir.

Buna göre aşağıda çalışan nüfusun ekonomik faaliyet kollarına göre dağılımı verilen beş ayrı ülkeden hangisinin diğerlerine göre daha fazla geliştiği söylenir?

Ülke	Tarım	Sanayi	Hizmet
A) I. ülke	%53	%25	%22
B) II. ülke	%2	%30	%68
C) III. ülke	%48	%30	%22
D) IV. ülke	%32	%28	%40
E) V. ülke	%61	%23	%16

6. • Hizmet sektörünün gelişmesine bağlı olarak ortaya çıkmıştır.
• Genellikle bilginin toplanması, veri tabanlarına işlenmesi, kullanıma hazır hale getirilmesi gibi işler yapılır.
• Bilgisayar yazılımcısı, reklam yayıncılığı, grafiker, tasarımcılık vb. meslekler bu faaliyet grubu içerisinde-dir.

Yukarıda bahsedilen ekonomik faaliyet grubu hangisidir?

- A) Birincil B) İkincil C) Üçüncül
D) Dördüncül E) Beşincil

Ekonomik Faaliyetler

7. Gelişmişlik seviyesi Dünya ortalamasının üstünde olan bir ülkede aşağıda verilen sektörlerden hangisinde çalışanların oranının daha az olması beklenir?

- A) Eğitim B) Tarım C) Kamu
D) Sağlık E) Emniyet

8. Aşağıda verilen ekonomik faaliyet gruplarından hangisi üzerinde doğal çevre şartlarının daha fazla etkili olduğu söylenir?

- A) Birincil B) İkincil C) Üçüncül
D) Dördüncül E) Beşincil

9. Ham ya da yarı işlenmiş haldeki maddelerin işlenerek yeni bir ürün haline getirilmesi ikincil ekonomik faaliyet olarak değerlendirilir.

İkincil ekonomik faaliyetler ile ilgili;

- I. Teknolojik gelişmelerin yaşanması sanayi üretiminde kapasitenin artmasına ortam hazırlamıştır.
II. İkincil ekonomik faaliyetlerin gelişmesi ham madde ve enerji ihtiyacının artmasına neden olmuştur.
III. Gelişmekte olan ülkelerde ikincil ekonomik faaliyetler artmaktadır.

verilenlerden hangileri söylenir?

- A) Yalnız I. B) Yalnız II. C) I ve II.
D) I ve III. E) I, II ve III.

10. Üçüncül ekonomik faaliyet grubu içerisindeki önemli sektörlerden biri de ticarettir.

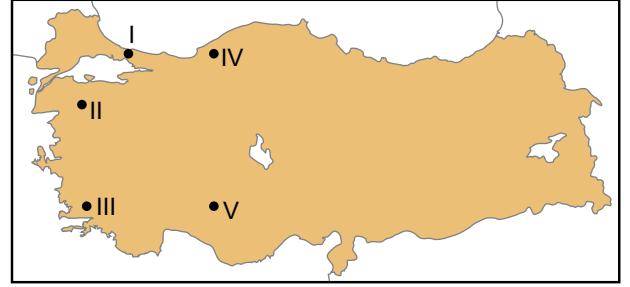
Ticaretin geliştiği yerlerde;

- I. Ulaşım olanaklarının,
II. Üretim faaliyetlerinin,
III. Dış göçlerin

verilenlerden hangilerinin artması beklenir?

- A) Yalnız I. B) Yalnız II. C) I ve II.
D) I ve III. E) I, II ve III.

11.



Harita üzerinde numaralandırılarak verilen yerlerin hangisinde madencilik faaliyetlerinde çalışan nüfus oranı daha azdır?

- A) I B) II C) III D) IV E) V

12. Gelişmemiş ülkelerde çalışan nüfusun büyük bir kısmı birincil ekonomik faaliyet kolunda istihdam edilmektedir.

Buna göre aşağıdaki ülkelerin hangisinde birincil ekonomik faaliyet kolunda istihdam edilen nüfus oranı daha fazladır?

- A) İsviçre B) Hollanda C) Kanada
D) Afganistan E) Finlandiya

