

Dünya'da ve Türkiye'de Göçler

1. I. 1960'lı yıllarda Türkiye'den Almanya'ya çalışmak amacıyla göç edilmiştir.
II. Bilim ve teknolojinin gelişmesine katkıda bulunabilecek kapasitedeki insanlar gelişmiş ülkelere göç etmektedirler.
III. Türkiye ile Yunanistan arasında imzalanan antlaşma gereğince Türkiye'deki Rumlar ile Yunanistan'daki Türkler yer değiştirmiştir.

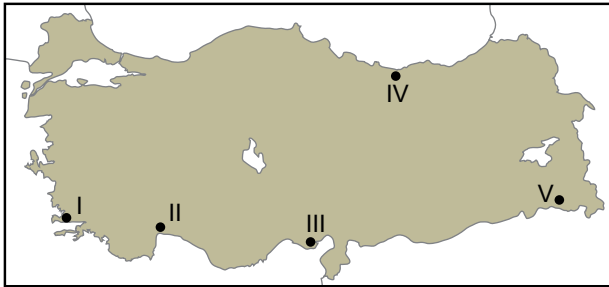
Yukarıda açıklanan göç türleri aşağıdakilerden hangisinde doğru eşleştirilmiştir?

	I	II	III
A) Beyin	Mübadele	Siyasi	
B) İşçi	Siyasi	Mübadele	
C) Siyasi	İşçi	Beyin	
D) İşçi	Beyin	Mübadele	
E) Mübadele	Beyin	İşçi	

2. Aşağıdakilerden hangisi kırdan kente göçe neden olan çekici faktörler arasında gösterilemez?

- A) Sosyal olanaklar
B) Eğitim hizmetleri
C) Sağlık hizmetleri
D) Belediye hizmetleri
E) Tarımda makineleşme

3. Türkiye'de bazı turizm ve tarımsal üretim alanlarına mevsimlik işçi göçleri yaşanmaktadır.



Haritada işaretlenen yerlerden hangisi bu alanlar arasında gösterilmez?

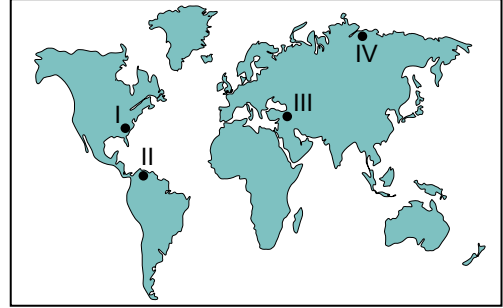
- A) I B) II C) III D) IV E) V

4. I. Türklerin Orta Asya'dan göç etmelerinde iklim koşullarının etkisi vardır.
II. İran, Irak, Afganistan gibi ülkeler beyin göçü alan ülkelerdir.
III. Göçlerin bazıları zorunlu nedenlerden yaşanmıştır.

Yukarıda göç ile ilgili verilen ifadelerden hangileri yanlıştır?

- A) Yalnız I. B) Yalnız II. C) Yalnız III.
D) I ve II. E) I ve III.

5. Aşağıda Dünya haritası üzerinde dört farklı yer işaretlenmiştir.



Bu yerlerden hangilerine coğrafi keşiflerden sonra insanlar yoğun bir şekilde göç etmiştir?

- A) I ve II. B) I ve III. C) II ve III.
D) II ve IV. E) III ve IV.

6. Göçleri süresine göre geçici ve devamlı göçler olarak sınıflandırabiliriz.

Bu şekilde yapılacak bir sınıflandırmada aşağıda verilenlerden hangisi farklı bir grup içinde yer alacaktır?

- A) Mehmet ve ailesinin Mardin'den fındık toplamak için Ordu'ya gitmeleri
B) İzmir'de yaşayan Ali'nin eğitimini tamamlamak için Ankara'ya gitmesi
C) Oğuz'un babasının İstanbul'a tayin olması nedeniyle İstanbul'a yerleşmeleri
D) Bülent ve ailesinin hayvanlarını otlatmak amacıyla yaz ayında yaylaya göç etmesi
E) Trabzon'da yaşayan Ertuğrul'un babasının İstanbul'a inşaat sektöründe çalışmak için gitmesi

Dünya'da ve Türkiye'de Göçler

7. Bir yerleşim biriminin yoğun göç alması bu yerde bazı sorunlara neden olmaktadır.

Bu sorunlar arasında aşağıdakilerden hangisi gösterilemez?

- A) Kültürel çatışma
B) Çarpık kentleşme
C) Konut sıkıntısının yaşanması
D) Eğitim hizmetlerinin aksaması
E) İş gücü ihtiyacının karşılanması

8. Aşağıda beş farklı yerleşim birimine ait doğal nüfus artışı ve gerçek nüfus artışı oranları verilmiştir.

	Doğal Nüfus Artışı (%)	Gerçek Nüfus Artışı (%)
I	0.2	2
II	5	2
III	2	1
IV	0.5	1.5
V	3	4

Bu yerlerden hangisinin göç alma oranı diğerlerine göre daha fazladır?

- A) I B) II C) III D) IV E) V

9. I. Çevre kirliliğinin artış göstermesi
II. Tarım arazilerinden yeterince faydalanılamaması
III. Devlet yatırımlarının boşa çıkması

Göçle nüfusu azalan kır yerleşmelerinde yukarıda verilenlerden hangilerinin gerçekleşmesi beklenir?

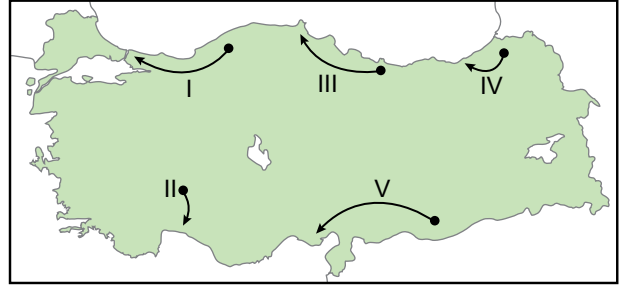
- A) Yalnız I. B) Yalnız II. C) I ve II.
D) I ve III. E) II ve III.

10. I. Mübadele göçü
II. Zorunlu göç
III. Mülteci göçü

İnsanların silahlı çatışmalardan ve şiddet olaylarından uzak kalmak amacıyla yurtlarını terk etmeleri yurtdışında verilen göç türlerinden hangilerine örnek olarak gösterilir?

- A) Yalnız I. B) Yalnız II. C) I ve II.
D) I ve III. E) II ve III.

11. Aşağıda Türkiye haritası üzerinde beş farklı güzergâh işaretlenmiştir.



Türkiye'de nüfusun yer değiştirme hareketlerine bakıldığında hangi yönde daha az kişinin göç etmesi beklenir?

- A) I B) II C) III D) IV E) V

12. Türkiye'de nüfus hareketlerine neden olan faktörler arasında:

- I. eğitim görme isteği,
II. doğal afetlerin yaşanması,
III. turizm faaliyetlerinde iş gücüne ihtiyaç duyulması

Verilenlerden hangileri gösterilir?

- A) Yalnız I. B) Yalnız II. C) I ve II.
D) II ve III. E) I, II ve III.

