

Türkiye'nin Nüfus Özellikleri

1. Türkiye nüfusunun dengeli bir dağılışı göstermediğini söyleyebiliriz. 2017 yılında İstanbul'un nüfusu 15 029 231 iken, Tunceli nüfusu 82 498 kişi olarak tespit edilmiştir.

Türkiye'de nüfusun bu şekilde dengesiz dağılışı üzerinde:

- I. iş olanaklarının dağılışı,
- II. eğitim ve sağlık hizmetlerinin dağılışı,
- III. iklim koşullarının farklılığı

verilenlerden hangileri etkili olmuştur?

- A) Yalnız I. B) Yalnız II. C) I ve II.
D) II ve III. E) I, II ve III.

2. Aşağıda Türkiye'de nüfusun yaş gruplarına göre dağılımı verilmiştir.

- 0-14 yaş: % 23,6
- 15-64 yaş: %67,9
- 65 yaş ve üstü: % 8,5

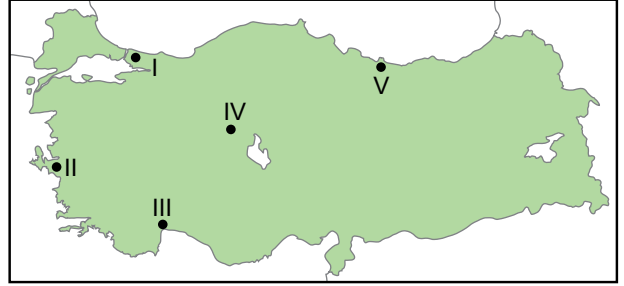
Bu verilere bakılarak Türkiye nüfusu hakkında:

- I. Nüfus artış hızı düşüktür.
- II. Genç ve dinamik nüfusa sahip bir ülkedir.
- III. Ortalama yaşam süresi uzundur.

ifadelerden hangileri söylenemez?

- A) Yalnız I. B) Yalnız II. C) I ve II.
D) I ve III. E) II ve III.

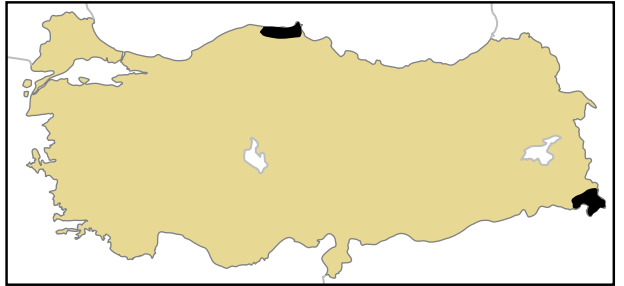
3. Aşağıdaki haritada Türkiye'de nüfusun yoğun olduğu beş farklı yer işaretlenmiştir.



Bu yerlerde nüfusun yoğun olmasında etkili olan unsur aşağıdakilerin hangisinde yanlış verilmiştir?

Yer	Ekonomik Faaliyet
A) I	Sanayi
B) II	Tarım
C) III	Turizm
D) IV	Ulaşım
E) V	Turizm

4. Aşağıda Türkiye haritası üzerinde nüfusun seyrek olduğu iki farklı alan işaretlenmiştir.



Bu durum üzerinde:

- I. karasal bir iklime sahip olması,
- II. yer şekillerinin engebeli olması,
- III. iş olanaklarının kısıtlı olması

etkili olan unsurlardan hangileri iki yer için ortak nedendir?

- A) Yalnız I. B) Yalnız II. C) I ve II.
D) I ve III. E) II ve III.

Türkiye'nin Nüfus Özellikleri

5. Türkiye'de tarımsal nüfus yoğunluğu dengeli bir dağılışı göstermemektedir. Bazı yerlerde tarımsal nüfus oldukça fazla iken bazı yerlerde düşüktür.

Bu durum üzerinde aşağıdakilerden hangisi etkili olmamıştır?

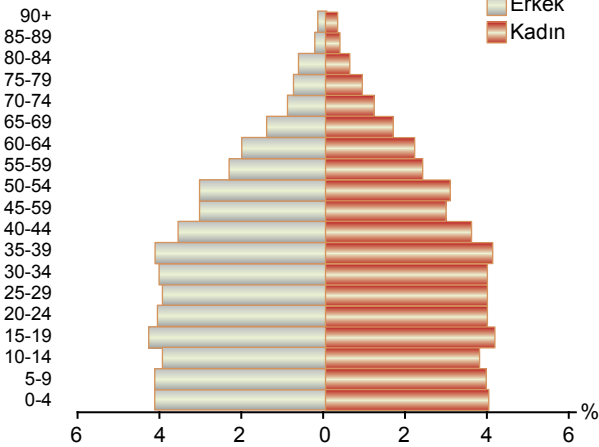
- A) Sanayi kuruluşlarının dağılışı
B) Yer şekillerinin engebe durumu
C) İklim özellikleri
D) Tarım arazilerinin dağılışı
E) Beyin göçleri

6. Türkiye'de son yıllarda il ve ilçe merkezlerinde yaşayan nüfusun oranı önceki yıllara göre artış göstererek % 92,5 olmuştur.

Bu durum ile öncelikle aşağıdakilerden hangisi arasında ilişki kurulur?

- A) Nüfus hareketleri
B) Nüfusun eğitim durumu
C) Nüfusun yaş ortalaması
D) Nüfusun cinsiyet oranı
E) Fizyolojik nüfus yoğunluğu

7. Yaş grubu



Yukarıda Türkiye'nin 2016 yılına ait nüfus piramidi verilmiştir.

Bu piramide bakıldığında Türkiye nüfusu hakkında:

- I. nüfusun bir önceki yıla göre artış gösterdiği,
II. nüfusun cinsiyet oranının dengeli olduğu,
III. aktif nüfus oranının fazla olduğu

verilenlerden hangilerine ulaşılır?

- A) Yalnız I. B) Yalnız II. C) I ve II.
D) I ve III. E) II ve III.

8. Çalışma çağına olmayan ve çalışma çağına olup da çalışmayan nüfus bağımlı nüfus olarak tarif edilmektedir. Türkiye'de bağımlı nüfus oranı azalma eğilimi göstermektedir.

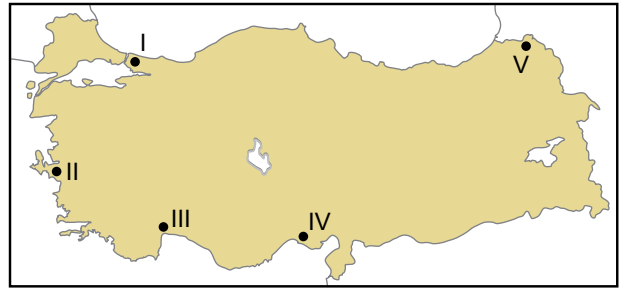
Bu durum üzerinde:

- I. nüfus artış hızının düşmesi
II. istihdam olanaklarının artması
III. ortalama yaşam süresinin uzaması

verilenlerden hangileri etkili olmuştur?

- A) Yalnız I. B) Yalnız II. C) I ve II.
D) II ve III. E) I, II ve III.

9. Hızlı nüfus artışı bazı mekânsal sorunlara neden olmaktadır.



Bu sorunların haritada işaretlenen yerlerin hangisinde daha az görülmesi beklenir?

- A) I B) II C) III D) IV E) V

10. 2016 yılında Türkiye nüfusunun 79.814.871 olduğu ve bir önceki yıla göre nüfusun 1,073,818 kişi arttığı açıklanmıştır.

Türkiye nüfusunun artmasının nedenleri arasında aşağıdakilerden hangisi gösterilemez?

- A) İç göçler
B) Yaşam süresinin uzaması
C) Dış göçler
D) Bebek ölümlerinin azalması
E) Beslenme koşullarının iyileşmesi

