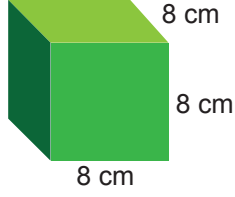


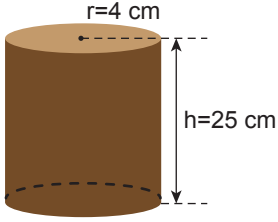
Madde ve Özellikleri - 1

1. Kenar uzunlukları 8 cm olan bir küpün hacmi kaç cm^3 'tür?



- A) 32 B) 64 C) 128 D) 256 E) 512

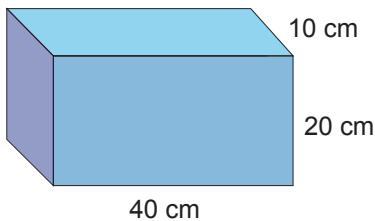
2. Tahta malzemeden yarıçapı $r = 4$ cm yüksekliği $h = 25$ cm olan bir silindir yapılıyor.



Buna göre silindirin hacmi kaç cm^3 'tür? ($\pi = 3$)

- A) 1200 B) 1400 C) 1500 D) 1600 E) 2000

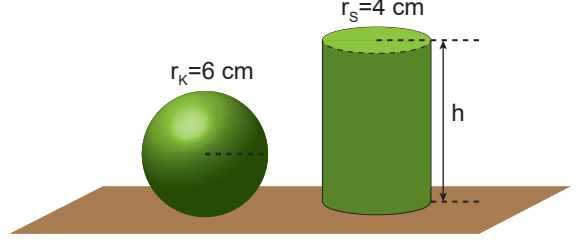
3. Kenar uzunlukları 10 cm, 20 cm ve 40 cm olan prizma şeklindeki bir kap su ile dolduruluyor.



Buna göre kapta kaç litre su vardır?

- A) 2 B) 4 C) 8 D) 16 E) 32

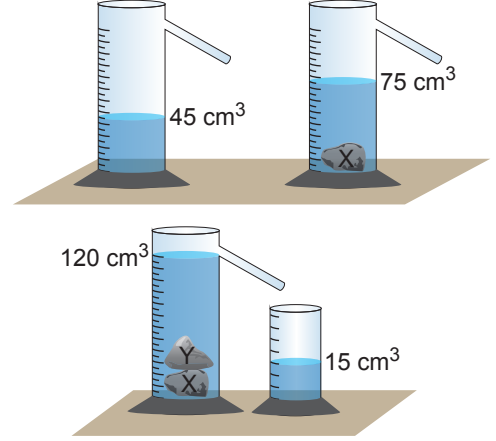
4. Yarıçapı $r_K = 6$ cm olan küre ile yarıçapı $r_S = 4$ cm olan silindirin hacimleri eşittir.



Buna göre silindirin yüksekliği kaç cm'dir?

- A) 18 B) 16 C) 12 D) 10 E) 9

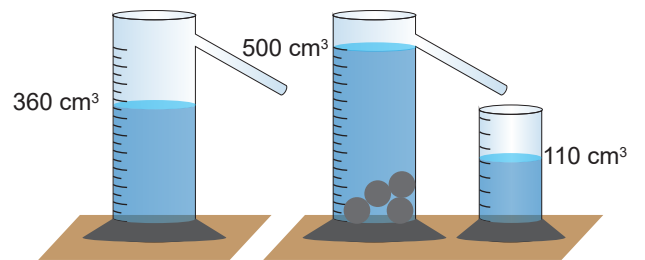
5. 45 cm^3 seviyesine kadar su dolu taşırma kabına X cismini atıldığında sıvı seviyesi 75 cm^3 oluyor. Daha sonra kaba Y cismini atıldığında taşırma kabından 15 cm^3 su taşır.



X cisminin hacmi V_X , Y cisminin hacmi V_Y olduğuna göre $\frac{V_X}{V_Y}$ oranı kaçtır? ($d_{su} = 1 \text{ g/cm}^3$)

- A) $\frac{1}{3}$ B) $\frac{1}{2}$ C) 1 D) $\frac{3}{2}$ E) 3

6. Şekil I'deki gibi 360 cm^3 seviyesine kadar su dolu taşırma kabına içi dolu kürelerden 4 tane atıldığında kaptan Şekil II'deki gibi 110 cm^3 su taşır.



Buna göre kürelerden birinin yarıçapı kaç cm'dir? ($\pi = 3$)

- A) 3 B) $\frac{5}{2}$ C) 2 D) $\frac{3}{2}$ E) 1

Madde ve Özellikleri - 1

7. Özkütlesi $0,6 \text{ g/cm}^3$ olan maddeden içinde bir miktar boşluk bulunan bir cisim yapılıyor. Cismin kütlesi 60 g , hacmi 120 cm^3 olarak ölçülüyor.

Buna göre bu cismin içinde kaç cm^3 boşluk vardır?

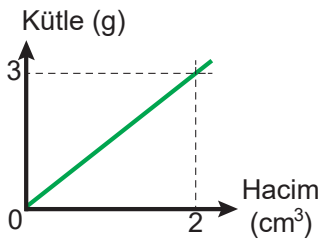
- A) 10 B) 20 C) 30 D) 40 E) 50

8. 100 g kütleli bir kap özkütlesi 1 g/cm^3 olan su ile dolu iken kütlesi 350 g oluyor.

Buna göre, kap $0,5 \text{ g/cm}^3$ özkütleli sıvı ile doldurulursa kütlesi kaç g olur?

- A) 75 B) 125 C) 175 D) 225 E) 250

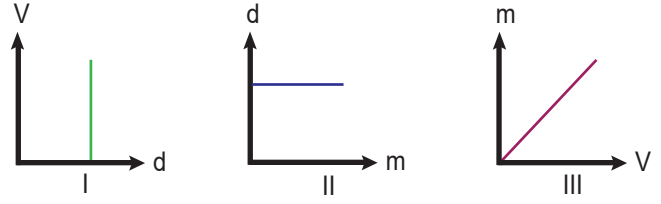
9. Kütle – hacim ilişkisi grafikte verilen maddeden küp şeklinde bir cisim yapılıyor.



Küpün bir kenar uzunluğu 2 cm olduğuna göre cismin kütlesi kaç g dir?

- A) 10 B) 12 C) 16 D) 20 E) 36

10. Bir sıvıya ait bazı grafikler I, II ve III numaralı şekillerde verilmiştir.



Buna göre bu grafiklerden hangileri sabit sıcaklık ve basınçtaki bir sıvıya ait olabilir?

(m: kütle, V: hacim, d: özkütle)

- A) Yalnız I. B) Yalnız III. C) I ve II.
D) I ve III. E) I, II ve III.

11. K, L ve M cisimlerine ait kütle ve hacim değerleri aşağıdaki tabloda verilmiştir.

| | Kütle(g) | Hacim (cm^3) |
|---|----------|-------------------------|
| K | 50 | 100 |
| L | 150 | 200 |
| M | 150 | 100 |

Buna göre cisimlerin özkütleleri d_K , d_L ve d_M arasındaki büyüklük sıralaması nedir?

- A) $d_L > d_M > d_K$ B) $d_K > d_L > d_M$
C) $d_M > d_L > d_K$ D) $d_L = d_M > d_K$
E) $d_K = d_L = d_M$

12. Özkütlesi $1,5 \text{ g/cm}^3$ olan maddeden yapılmış kürenin kütlesi 48 g dir.

Buna göre bu kürenin yarıçapı kaç cm dir? ($\pi = 3$)

- A) 1 B) 2 C) 3 D) 4 E) 5

